

ప్రీ-అప్సర్ ప్రైమరీ స్కూల్స్ లిస్ట్ ఎగ్జామినేషన్ (5వ తరగతి), ఫిబ్రవరి 2024

సీటు నం.

--	--	--	--	--	--	--	--	--	--

సెట్



0 7 0 2



పేపర్ నెం. II

మీడియం : తెలుగు

సమయం : 02:00 నుండి 03:30 వరకు తృతీయ భాష మరియు ఇంటెలిజెన్స్ పరీక్ష

మొత్తం మార్కులు : 150

పేజీలు : 32

ప్రశ్న పత్రిక సాధించుటకు ముందు కింది సూచనలను జాగ్రత్తగా చదవండి.

- (1) ఈ ప్రశ్న పత్రికలో రెండు విభాగములు కలవు. వాటిలో విభాగం - I లో తృతీయ భాష విషయం కొరకు 1 నుండి 25 మరియు విభాగము-II లో ఇంటెలిజెన్స్ పరీక్ష కొరకు 26 నుండి 75 ఈ విధంగా ప్రశ్న పత్రికలో 75 ప్రశ్నలు కలవు అన్ని ప్రశ్నలు సాధించుట అనివార్యము.
- (2) ప్రతి ప్రశ్న కొరకు 2 మార్కులు కలవు.
- (3) ప్రశ్న పత్రిక సాధించుట కొరకు మొత్తం 90 నిమిషాల సమయం ఇవ్వబడును.
- (4) జవాబును గుర్తించుట కొరకు స్వతంత్ర ఉత్తర ప్రతీక ఇవ్వబడినది. ప్రతి ప్రశ్న క్రమసంఖ్య ముందు నాలుగు పర్యాయముల కొరకు క్రమసంఖ్యగల వృత్తములు ఇవ్వబడినవి అందులో సరియైన జవాబు యొక్క పర్యాయ క్రమ సంఖ్యగల వృత్తాన్ని కింది ఉదాహరణలో చూపించిన విధంగా రంగరించండి.
ఉదా : ప్రశ్న సం. 6 యొక్క జవాబు క్రమసంఖ్య 2 అయితే, దానిని క్రింది విధంగా గుర్తించండి.
ప్రశ్న సం. 6 - ① ● ③ ④
- (5) క్రింది విధంగా గుర్తించిన జవాబులు పరిగణింపబడవు, ఇలా జవాబు వ్రాసినట్లయితే 'సున్న' మార్కులు ఇవ్వబడును.
ఉదా : 1 2 3 4
- (6) ఒకటికంటే ఎక్కువ వృత్తాలను గుర్తించిన జవాబులు కొట్టివేసి ఇచ్చిన జవాబులు పరిగణించబడవు.
- (7) ఒకసారి గుర్తించిన జవాబులు తిరిగి మార్పుటకు వీలుపడదు.
- (8) జవాబులు గుర్తించునపుడు నలుపు లేదా నీలి రంగు బాల్ పెన్నును మాత్రమే ఉపయోగించవలెను, పెన్సిల్ తో గుర్తించినవి పరిగణలోనికి తీసుకోబడవు.
- (9) ప్రశ్నపత్రంలో ప్రతి పేజీలో క్రింది భాగంలో మరియు చివరి పేజీలో చిత్తుపని చేసుకొనుటకు ఖాళీ స్థలం కలదు. అందులోనే చిత్తుపని చేయవలెను.
- (10) పరీక్షకు నిర్ణీత సమయము ఉన్నందున ఏదేని ప్రశ్నకు జవాబు తెలియకున్న అది వదలి దానిముందున్న ప్రశ్నలను సాధించండి. చివరకు సమయం ఉన్నచో విడిచిన ప్రశ్నలను సాధించుటకు ప్రయత్నించండి.
- (11) ఏదేని ప్రశ్నలో తప్పు కనిపించినట్లయితే దాని గురించి పర్యవేక్షకుడు లేదా ప్రరీక్ష కేంద్ర సంచాలకుని వద్దకు వెళ్ళి విచారించకూడదు.
- (12) ప్రశ్నలోని లోపం/తప్పు/అభ్యంతరాల గురించి ఫిర్యాదులకు సంబంధించిన లిఖిత పూర్వక వినతి పత్రం పాఠశాల లేక తల్లిదండ్రులు బ్లాక్ ఎడ్యుకేషన్ ఆఫీసర్ లేదా ఎడ్యుకేషన్ ఆఫీసర్ కు లిఖితపూర్వక దరఖాస్తు పంపకూడదు. ఈ లోపం/పొరపాటు/అభ్యంతర సమస్యలు సంబంధిత పాఠశాల లాగిన్ ద్వారా మాత్రమే ఆన్లైన్ లో నమోదు చేసుకోవాలి.
- (13) లోపం/తప్పు/అభ్యంతరాల గురించి లిఖిత పూర్వక వినతి పత్రం పంపవలసిన గడువు పరీక్ష పరిషద్ యొక్క సంకేత స్థలానికి (Website) తాత్కాలిక ఉత్తర (జవాబు) సూచిక విడుదల చేసిన 10 (పది) రోజుల వరకు ఉంటుంది.
- (14) ముద్రణ దోషాలు లేక ఇతర కారణాల వలన ప్రశ్న తప్పుగా ఉన్నట్లు తెలిస్తే నిపుణుల సమితి అభిప్రాయం ప్రకారం తగిన చర్య తీసుకోబడును.
- (15) తెలుగు మీడియంతో పాటు ఇంగ్లీష్ భాషలో కుడా ప్రశ్న పత్రం ఇవ్వబడినది. తెలుగు మీడియంలోని సందిగ్ధ ప్రశ్నల కొరకు ఇంగ్లీష్ ప్రశ్నలు చూడండి.

SECTION - I

ENGLISH

Instructions for Q. 01 to Q. 03 :

Read the passage carefully and answer the following questions.

A dictionary is a must for a student. You can begin with simple, attractive dictionaries and then learn to use the more difficult ones later. So, the next time you come across a difficult word, don't fret. Just look it up in a dictionary.

01. What is a must for a student?

- (1) A diary (2) A muster
(3) A library (4) A dictionary

02. Find the opposite word for 'Easy'.

- (1) Weak (2) Just
(3) Difficult (4) Across

03. Fill in the blank with correct alternative.

One can begin with _____ , _____ dictionaries.

- (1) simple , attractive (2) simple , difficult
(3) must , next (4) more , fret

04. Match the correct instructions from the given alternatives.

- (1) 1-A, 2-B, 3-C
(2) 1-C, 2-A, 3-B
(3) 1-B, 2-A, 3-C
(4) 1-C, 2-B, 3-A

1. Turn

2. Climb

3. Go

A. Up

B. Left

C. Down

SPACE FOR ROUGH WORK

05. Fill in the blanks.

Joseph has a brand _____ bicycle.

- (1) knew (2) new
(3) now (4) no

06. Select the rhyming word for the correct action word from the given table.

dig	bib
tar	fin

- (1) far (2) rib
(3) fig (4) bin

07. Fill in the blank.

_____, no ! My mobile is ringing.

- (1) Alas (2) Oh
(3) Brave (4) Ouch

08. Choose the correct ordinal number for 'December'.

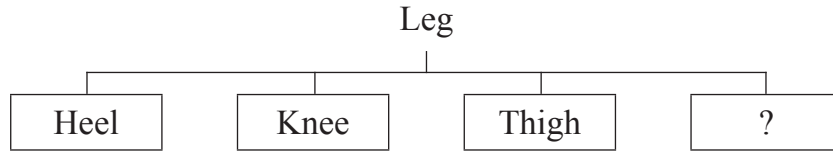
- (1) Twelfth (2) Twelvth
(3) Twelfth (4) Twelve

09. Find the shape of dice used in 'Ludo' game from the given alternatives.

- (1) cuboid (2) cube
(3) sphere (4) cone

SPACE FOR ROUGH WORK

10. Look at the chart and find the correct option.



- (1) Fist (2) Stomach
(3) Jaw (4) Toes

11. How will Salim greet Vandana on her birthday?

- (1) Happy birthday! (2) Congratulations!
(3) Best of luck! (4) Rest in peace!

12. Solve the riddle.

I can help you to heat
and cook different types of food.

Who am I?

- (1) Microwave (2) Blender
(3) Refrigerator (4) Chimney

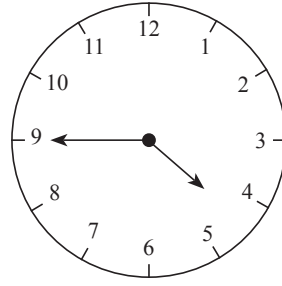
13. Arrange the numbers to make meaningful word.

N	I	O	D	A	R	S	U
1	2	3	4	5	6	7	8

- (1) 42153687 (2) 42137586
(3) 76853124 (4) 68753421

SPACE FOR ROUGH WORK

14. Choose the incorrect options.
The clock shows the time _____.
- (1) quarter to 5
 - (2) three quarters past 4
 - (3) two quarters past 5
 - (4) 45 minutes past 4



15. Choose the proper punctuation mark in the end of the sentence.

‘That's an excellent idea ’

- (1) ?
- (2) ,
- (3) .
- (4) !

16. Select the correct option.

We should cut our hair _____.

- (1) hardly
- (2) regularly
- (3) terribly
- (4) recently

Instructions for Q. 17 and Q. 18

HEALTH IS WEALTH!

Fresh Fruits

Vegetables

From Daisy's shop

LOW PRICE

▶ **healthy** ▶ **juicy** ▶ **tasty**

Fruits and Vegetables
59, Mint Street,
Trichy

SPACE FOR ROUGH WORK

17. Fill in the blank with correct option.

This advertisement is based on _____.

- (1) fruits and meat (2) vegan and diary
(3) fruits and smoothie (4) vegetables and fruits

18. Select the motto for the advertisement.

- (1) Health is Wealth (2) Truth is Gold
(3) Green and clean Earth (4) Never stop learning

19. Choose the correct alternative for the given sentence.

‘hooray! teacher, we want to play kho-kho’.

- (1) Capital ‘H’ for hooray
(2) Capital ‘T’ for teacher
(3) Capital ‘W’ for we
(4) Capital ‘H’ for hooray and Capital ‘T’ for teacher

20. Choose the correct pair from the given alternatives.

- (1) A flock of bees (2) A flock of geese
(3) A bundle of children (4) A swarm of dogs

21. Pick out the missing colour of a ‘rainbow.’

Red, Orange, Yellow, Green, Blue, _____ and violet.

- (1) Indigo (2) White
(3) Pink (4) Purple

SPACE FOR ROUGH WORK

22. Choose the correct contracted form of the underlined words in the given sentence.

'I am not interested.'

(1) aren't

(2) ain't

(3) am't

(4) arent'

23. Fill in the blank.

'France is _____ European country.'

(1) an

(2) the

(3) a

(4) no article

24. Observe the diagram carefully and find the answer from the alternatives.

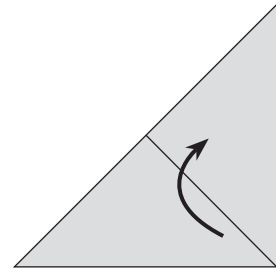
Fold the paper in the _____ direction.

(1) South

(2) Upward

(3) South West

(4) Downward



25. Which of the following is a permission?

(1) You are welcome

(2) I drink water

(3) Please come in

(4) Don't make noise

SPACE FOR ROUGH WORK

A B C D E | F G H I J | K L M N O | P Q R S T | U V W X Y

SECTION - II

INTELLIGENCE TEST

26. Which of the following is the correct example of homophone?
(1) Seek - sick (2) Ship - sheep (3) Two - to (4) Ate - at
27. Read the poem carefully. Find out how many more or less three letter words than the 7 letter words are there in the poem.

‘Twinkle Twinkle little star,
how I wonder what you are?
up above the world so high,
like a diamond in the sky.

- (1) More by 3 (2) Less by 3 (3) Less by 2 (4) More by 4
28.

ABCDE	FGHIJ	KLMNO	PQRST	UVWXY
-------	-------	-------	-------	-------

In the above given alphabet series which of the given pair of alphabets indicate the difference $\frac{4}{3}$ times the difference between letter ‘H’ and letter ‘R’.

- (1) D - N (2) K - W (3) M - X (4) E - R
29. In the given number series the digits of every number are interchanged to form a new series. What is the addition of the prime numbers in the new series?

13 , 95 , 17 , 53 , 37 , 76 , 19 , 41

- (1) 180 (2) 301 (3) 300 (4) 181

Q. 30 to Q. 34 Direction :

Select the odd term.

30. (1) House (2) Planet (3) Cottage (4) Home

SPACE FOR ROUGH WORK

A	B	C	D	E	F	G	H	I	J	K	L	M	N	O	P	Q	R	S	T	U	V	W	X	Y
---	---	---	---	---	---	---	---	---	---	---	---	---	---	---	---	---	---	---	---	---	---	---	---	---

విభాగం - II

ఇంటెలిజెన్స్ పరీక్ష

26. కింది వాటిలో సంయుక్తాక్షరాలు లేని పదం ఏది?

- | | |
|------------|-------------|
| (1) చక్రము | (2) పద్మము |
| (3) పలక | (4) ద్వారము |

27. కింది వాటిలో 'చ' వర్ణముకు చెందిన అక్షరమును గుర్తించండి

- | | |
|-------|-------|
| (1) ఝ | (2) ఢ |
| (3) ఢ | (4) మ |

28.

ABCDE	FGHIJ	KLMNO	PQRST	UVWXY
-------	-------	-------	-------	-------

పై అక్షర మాలికలో 'H' మరియు 'R' ఈ అక్షరాల మధ్యలో ఉన్న అక్షరాల సంఖ్య కంటే $\frac{4}{3}$ రెట్లు అక్షరములు కిందివాటిలో ఏ జతలోఉండును?

- | | |
|-----------|-----------|
| (1) D - N | (2) K - W |
| (3) M - X | (4) E - R |

29. కింద ఇచ్చిన సంఖ్యాశ్రేణిలోని ప్రతి సంఖ్యలోని అంకెల స్థానాలను తారుమారు చేసి ఏర్పడిన సంఖ్యలలో ప్రధాన సంఖ్యల మొత్తం ఎంత వచ్చును?

13	, 95	, 17	, 53	, 37	, 76	, 19	, 41
----	------	------	------	------	------	------	------

- | | |
|---------|---------|
| (1) 180 | (2) 301 |
| (3) 300 | (4) 181 |

ప్రశ్న సం. 30 నుండి 34 కొరకు సూచన :-

సమూహంకు చెందిన పదంను గుర్తించి దాని పర్యాయ క్రమము వృత్తంను రంగరించండి.

30. (1) కన్ను (2) గ్రహం (3) నేత్రం (4) అక్షి

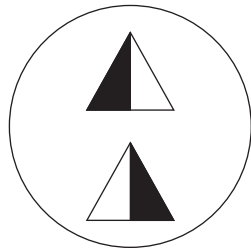
SPACE FOR ROUGH WORK

A	B	C	D	E	F	G	H	I	J	K	L	M	N	O	P	Q	R	S	T	U	V	W	X	Y
---	---	---	---	---	---	---	---	---	---	---	---	---	---	---	---	---	---	---	---	---	---	---	---	---

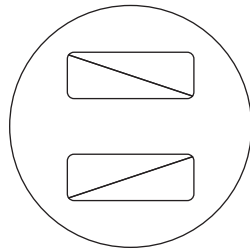
31. (1) 54 (2) 78 (3) 66 (4) 36

32. (1) 192 (2) 312 (3) 732 (4) 726

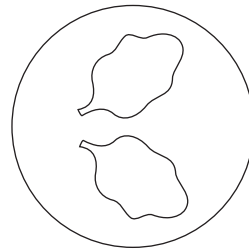
33.



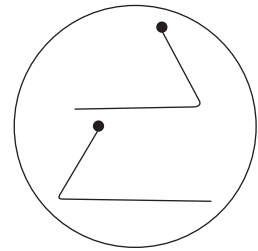
(1)



(2)

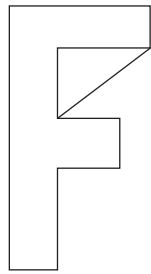


(3)

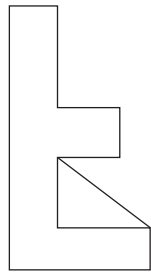


(4)

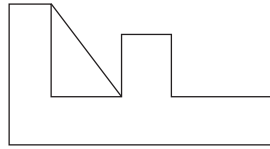
34.



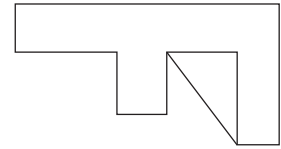
(1)



(2)



(3)



(4)

35.

Rahim's today's age is twice of Ram's today's age and $\frac{4}{3}$ times John's today's age. If three years ago Ram's age was 9 years then what is the sum of today's age of all three of them?

(1) 60 (2) 51 (3) 54 (4) 58

36.

In a certain code language if Tiger is called as Lion, Lion is called as Shekaru, Shekaru is called as Deer, Deer is called as Elephant then who of the following is called as Maharashtra's state animal?

(1) Tiger (2) Lion (3) Shekaru (4) Deer

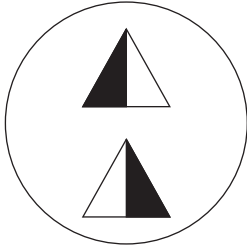
SPACE FOR ROUGH WORK

A	B	C	D	E	F	G	H	I	J	K	L	M	N	O	P	Q	R	S	T	U	V	W	X	Y
---	---	---	---	---	---	---	---	---	---	---	---	---	---	---	---	---	---	---	---	---	---	---	---	---

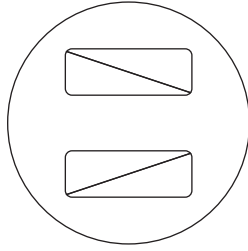
31. (1) 54 (2) 78 (3) 66 (4) 36

32. (1) 192 (2) 312 (3) 732 (4) 726

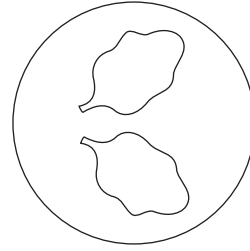
33.



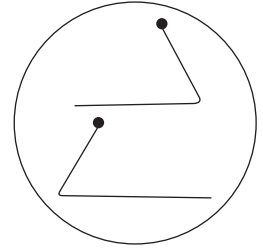
(1)



(2)

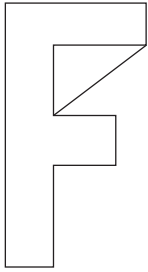


(3)

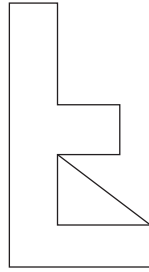


(4)

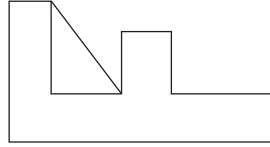
34.



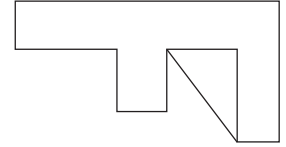
(1)



(2)



(3)



(4)

35. రహిమ్ ప్రస్తుత వయసు రామ్ ప్రస్తుత వయసుకు రెట్టింపు గలదు అలాగే జాన్ ప్రస్తుత వయసుకు $\frac{4}{3}$ రెట్లు గలదు. రామ్ మూడు సంవత్సరాల క్రితం 9 సంవత్సరాలు ఉండెను. అయిన వారి ముగ్గురి వయసుల మొత్తం ఎన్ని సంవత్సరాలు ఉండును?

(1) 60 (2) 51 (3) 54 (4) 58

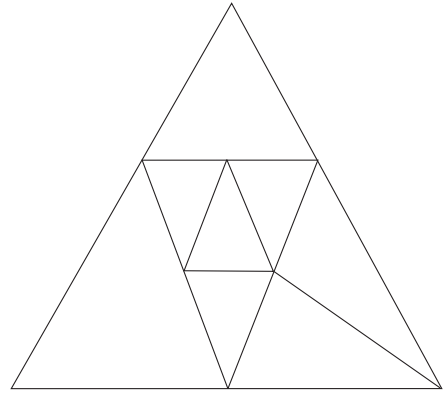
36. నారింజ పండును దానిమ్మ పండు అని దానిమ్మ పండును మామిడి పండు అని, మామిడి పండును పనస పండు అని, పనస పండును అరటి పండు అని పిలవబడినది. అయిన మహారాష్ట్ర రాష్ట్రం పండు దేనిననాలి?

(1) నారింజ పండు (2) దానిమ్మ పండు (3) మామిడి పండు (4) పనస పండు

SPACE FOR ROUGH WORK

37. In the adjacent figure how many triangles are there?

- (1) 12
- (2) 11
- (3) 8
- (4) 9



Q. 38 to Q. 40 Direction :

Identify the sequence in the given terms / figures and select the correct alternative to replace the question mark.

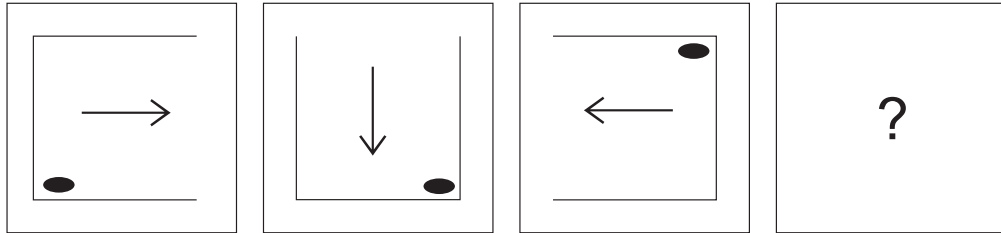
38. 841, ? , 361, 289, 169, 121

- (1) 729
- (2) 441
- (3) 625
- (4) 529

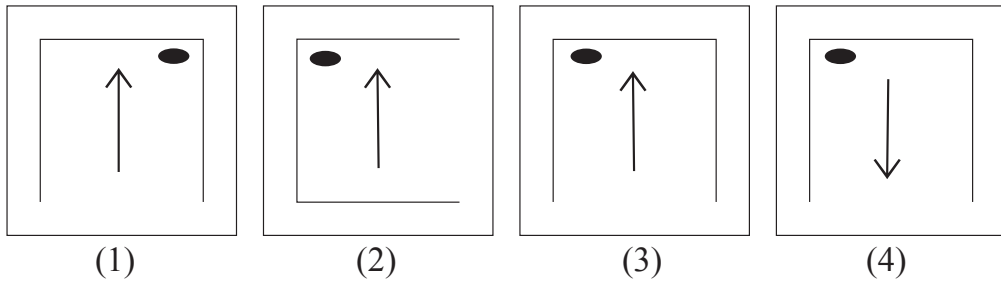
39. 91, 82, 74, 67, ? , 55, 50, 45

- (1) 61
- (2) 58
- (3) 62
- (4) 57

40. **Question Figures :**



Answer Figures :

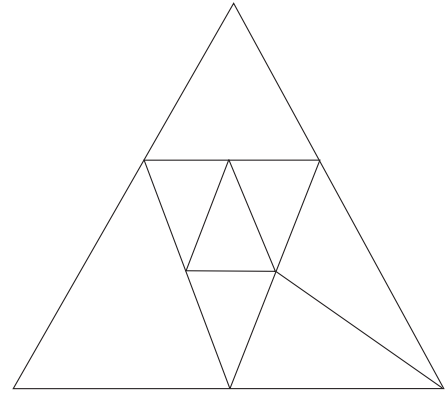


SPACE FOR ROUGH WORK

A	B	C	D	E	F	G	H	I	J	K	L	M	N	O	P	Q	R	S	T	U	V	W	X	Y
---	---	---	---	---	---	---	---	---	---	---	---	---	---	---	---	---	---	---	---	---	---	---	---	---

37. కింది పటంలో మొత్తం ఎన్ని త్రిభుజాలు గలవు?

- (1) 12
- (2) 11
- (3) 8
- (4) 9



ప్రశ్న సం. 38 నుండి 40 కొరకు సూచన :-

కింది పదాల వరుసను గుర్తుంచుకొని ప్రశ్నచిహ్న స్థానంలో వచ్చే పదం పర్యాయాల నుండి ఎన్నుకోండి.

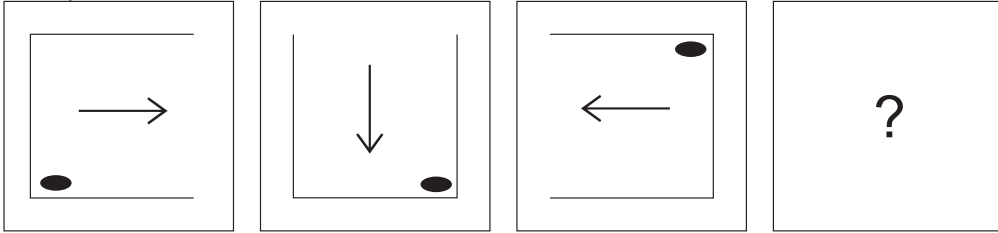
38. 841, ?, 361, 289, 169, 121

- (1) 729
- (2) 441
- (3) 625
- (4) 529

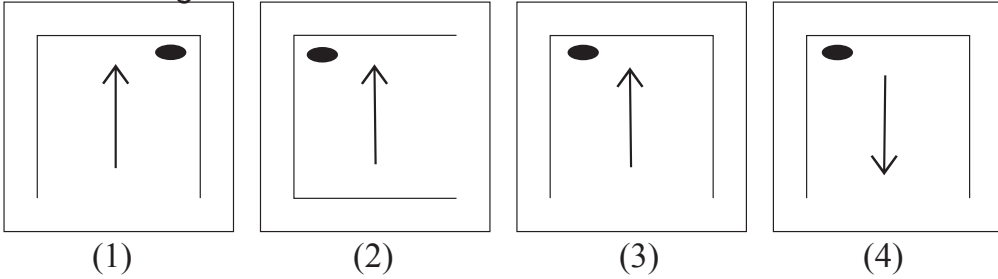
39. 91, 82, 74, 67, ?, 55, 50, 45

- (1) 61
- (2) 58
- (3) 62
- (4) 57

40. ప్రశ్నాకృతి :



సమాధాన ఆకృతులు :

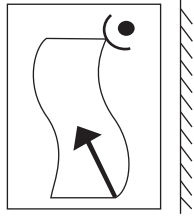


SPACE FOR ROUGH WORK

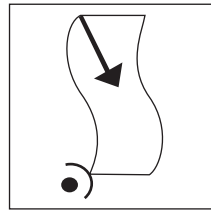
Q. 41 and Q. 42 Direction :

Find out the mirror image of each of the following question figure from the alternatives given.

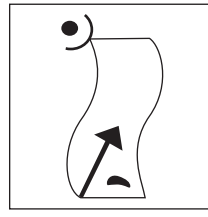
41. Question Figure :



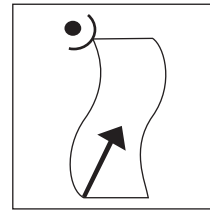
Answer Figures :



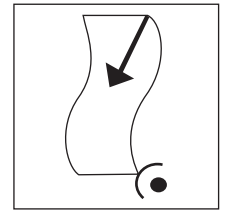
(1)



(2)




(3)



(4)


42. Question Figure :



Answer Figures :




(1)



(2)



(3)



(4)

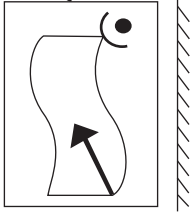
- 43.** If your friend misbehaves in front of everyone then what will you do?
- (1) I will beat him there itself.
 - (2) I will breakup the friendship.
 - (3) I will dishonour him amongst friends.
 - (4) I will explain him properly about why he should not misbehave.
- 44.** The school gives you the responsibility of the section, where you have never worked then what will you do?
- (1) I will insist to get the work changed.
 - (2) I will try to understand the method of that work and try to do it efficiently.
 - (3) If my work is not changed then I will misinterpret their behaviour.
 - (4) I will accept the responsibility without understanding the work.

SPACE FOR ROUGH WORK

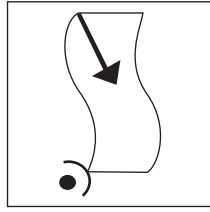
ప్రశ్న సం. 41 నుండి 42 కొరకు సూచన :-

కింద ఇచ్చిన ప్రశ్నాకృతి యొక్క ప్రతిమ అద్దంలో ఎలా కనబడుతుందో దాని పర్యాయమును జవాబు ఆకృతుల నుంచి ఎన్నుకోండి.


41. ప్రశ్నాకృతి :



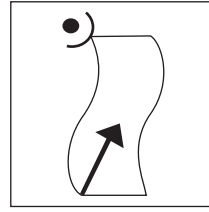
జవాబు ఆకృతులు :



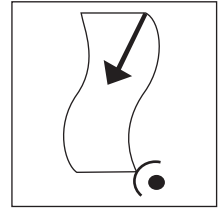
(1)



(2)




(3)




(4)


42. ప్రశ్నాకృతి :



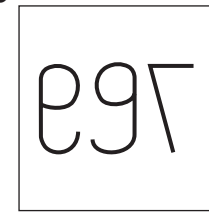
జవాబు ఆకృతులు :




(1)



(2)



(3)



(4)

43. నీ మిత్రుడు అందరి ముందు చెడుగా ప్రవర్తించాడు; అయితే నీవు ఏం చేస్తావు?

- (1) అక్కడే అతనిని కొడతాను.
- (2) అతనితో స్నేహం వీడుకుంటాను.
- (3) స్నేహితులలో అతనిపై నింద వేస్తాను.
- (4) చెడుగా ప్రవర్తించకు అని అతనికి నచ్చచెప్పగలను.

44. మీరు ఎన్నడూ పని చేయని డిపార్ట్‌మెంట్‌కు, పాఠశాల మిమ్మల్ని ఇన్‌చార్జ్‌గా బాధ్యతలు ఇచ్చినట్లయితే మీరు ఏమి చేస్తారు?

- (1) పనిని మార్చమని పట్టుబడతాను.
- (2) పని తీరును అర్థం చేసుకున్న తర్వాత సరిగ్గా పని చేయడానికి ప్రయత్నిస్తాను.
- (3) పనిని మార్చి ఇవ్వకుంటే గైర్వాజరు ఉంటాను.
- (4) పని తీరును అర్థం చేసుకోకుండా బాధ్యతను స్వీకరిస్తాను.

SPACE FOR ROUGH WORK

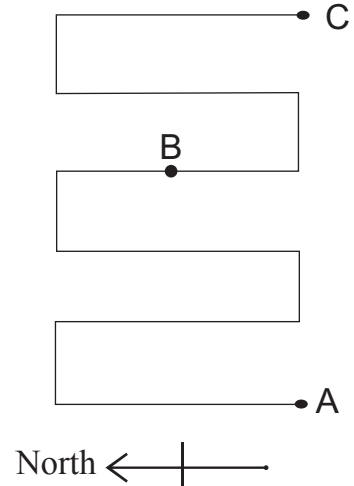
A	B	C	D	E	F	G	H	I	J	K	L	M	N	O	P	Q	R	S	T	U	V	W	X	Y
---	---	---	---	---	---	---	---	---	---	---	---	---	---	---	---	---	---	---	---	---	---	---	---	---

45. In a row Sameer is at twenty third position from front and nineteenth position from back. What is the position of Raj from back, who is standing at 5th place behind the middle position boy?

- (1) 16th (2) 28th (3) 13th (4) 27th

46. In the given path while walking from 'A' to 'B' how many times will you face the north direction?

- (1) 2
(2) 3
(3) 5
(4) 6



47. Some birds are sitting on tree 'A' and some birds are sitting on tree 'B'. If one bird from tree 'A' went on tree 'B' then the number of birds on tree 'B' will be twice the number of birds on tree 'A' and if one bird from tree 'A' will go on tree 'B' then the number of birds on both the trees will be equal. Now initially how many birds were sitting on tree 'A' and 'B' respectively.

- (1) 3, 5 (2) 7, 5 (3) 5, 7 (4) 5, 3

Q. 48 to Q. 52 Direction :

In the following questions, first pair has some relationship between first two terms. The same relation holds true for the second pair. Identify the relation and select the correct alternative to replace the question mark.

48. Cool : hot :: strong : ?

- (1) brave (2) thin (3) week (4) weak

SPACE FOR ROUGH WORK

A	B	C	D	E	F	G	H	I	J	K	L	M	N	O	P	Q	R	S	T	U	V	W	X	Y
---	---	---	---	---	---	---	---	---	---	---	---	---	---	---	---	---	---	---	---	---	---	---	---	---

49. Shyamchi Aai : Sane Guruji :: Wings of fire : ?

- (1) Jayant Naralikal (2) Dr. A.P.J. Abdul Kalam
 (3) Pranav Mukherji (4) Dr. Homi Bhabha

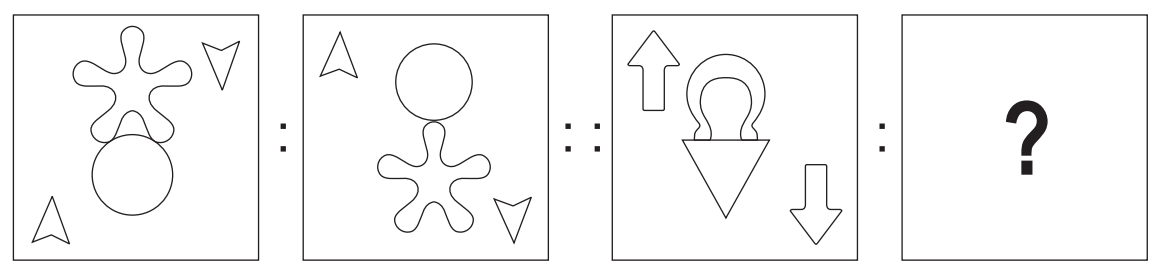
50. 37 : 40 :: 25 : ?

- (1) 19 (2) 27 (3) 21 (4) 30

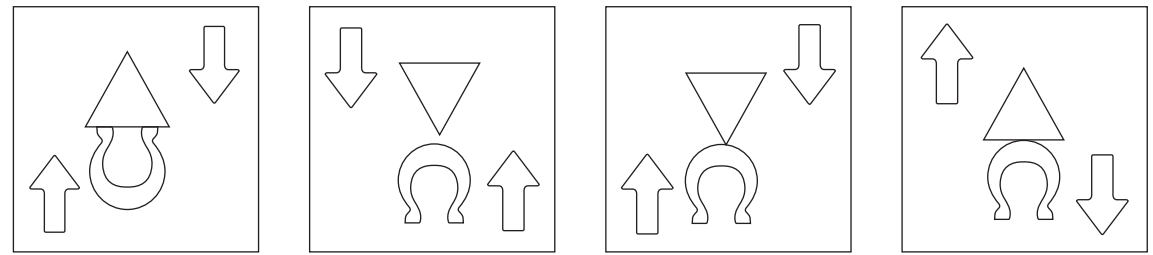
51. 14 : 15 :: 32 : ?

- (1) 35 (2) 42 (3) 31 (4) 18

52. Question Figures:



Answer Figures:



- (1) (2) (3) (4)

53. John, who is born on 5th January 2001 Friday, is 100 days elder to Shanaya then on which day was Shanaya's first birthday?

- (1) Thursday (2) Tuesday (3) Wednesday (4) Monday

SPACE FOR ROUGH WORK

A	B	C	D	E	F	G	H	I	J	K	L	M	N	O	P	Q	R	S	T	U	V	W	X	Y
---	---	---	---	---	---	---	---	---	---	---	---	---	---	---	---	---	---	---	---	---	---	---	---	---

49. దేశమును ప్రేమించుమన్నా : శ్రీ గురజాడ అప్పారావు :: ఈగ-సాలీడు : ?

- (1) కీ.శే. సమతారావు (2) శ్రీ శరికాంత్ శాతకర్ణి
(3) శ్రీ మహీధర (4) శ్రీ దొప్పలపూడి రాధాకృష్ణమూర్తి

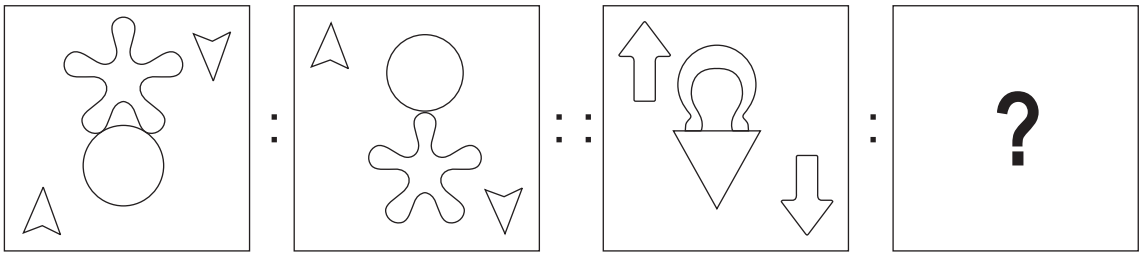
50. 37 : 40 :: 25 : ?

- (1) 19 (2) 27 (3) 21 (4) 30

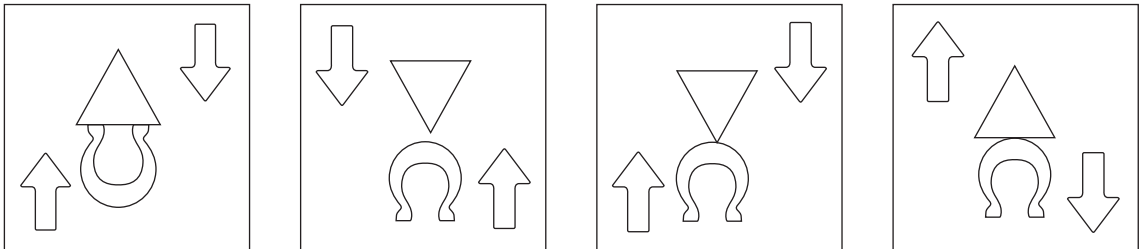
51. 14 : 15 :: 32 : ?

- (1) 35 (2) 42 (3) 31 (4) 18

52. సమస్యాత్మక చిత్రంలు :



సమాధానముల చిత్రంలు :



- (1) (2) (3) (4)

53. 2001వ సంవత్సరం జనవరి 5వ తేదీన జన్మించిన జాన్, శనయా కంటే 100 రోజుల పెద్దవాడు. అయిన శనయా మొదటి పుట్టినరోజు ఏ వారం ఉండెను?

- (1) గురువారము (2) మంగళవారము (3) బుధవారము (4) సోమవారము

SPACE FOR ROUGH WORK

54. Select the number to replace the question mark in the given grid.

75	7	25
18	33	63
?	52	12

- (1) 46 (2) 42 (3) 35 (4) 48

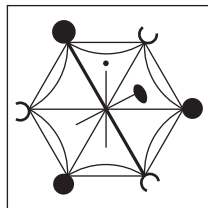
55. In a certain code language if 25 = 532, 57 = 725 and 34 = 413 then how will you write 14 in the same code language?

- (1) 314 (2) 451 (3) 431 (4) 514

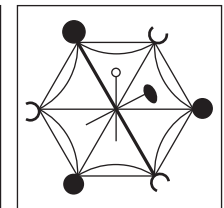
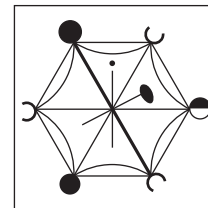
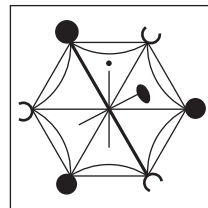
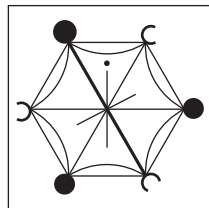
Q. 56 and Q. 57 Direction:

Identify the figure which exactly matches with the question figure from the four alternatives given below.

56. **Question Figure:**




Answer Figures:







- (1) (2) (3) (4)

57. **Question Figure:**



Answer Figures:



- (1) (2) (3) (4)

SPACE FOR ROUGH WORK

A	B	C	D	E	F	G	H	I	J	K	L	M	N	O	P	Q	R	S	T	U	V	W	X	Y
---	---	---	---	---	---	---	---	---	---	---	---	---	---	---	---	---	---	---	---	---	---	---	---	---

54. కింద ఇచ్చిన పట్టికలో ప్రశ్నగుర్తు స్థానంలో ఏ సంఖ్య వచ్చును?

75	7	25
18	33	63
?	52	12

- (1) 46 (2) 42 (3) 35 (4) 48

55. ఒక సంకేత (కోడ్) భాషలో $25 = 532$, $57 = 725$ మరియు $34 = 413$ ఇలా రాస్తారు. అయిన అదే సంకేత (కోడ్) భాషలో '14' సంఖ్యను ఎలా రాస్తారు?

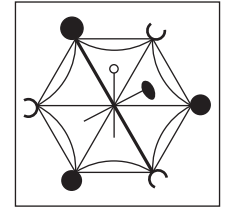
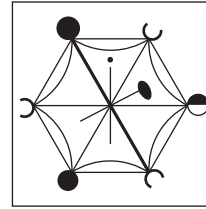
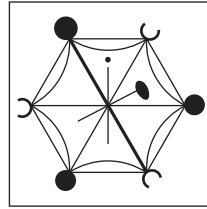
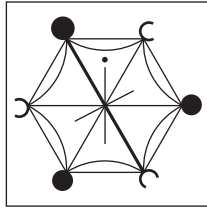
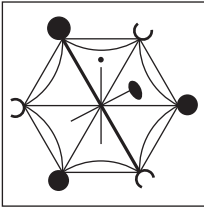
- (1) 314 (2) 451 (3) 431 (4) 514

ప్రశ్న 56 మరియు 57 కొరకు సూచన :-

కింద ఇచ్చిన ప్రశ్నలోని సమస్యాత్మక చిత్రం లాగే ఉన్న చిత్రంను సమాధాన చిత్రంల నుంచి ఎన్నుకోండి.

56. సమస్యాత్మక చిత్రం :

సమాధాన చిత్రంలు :



(1)






(2)

(3)

(4)

57. సమస్యాత్మక చిత్రం :

సమాధాన చిత్రంలు :



(1)

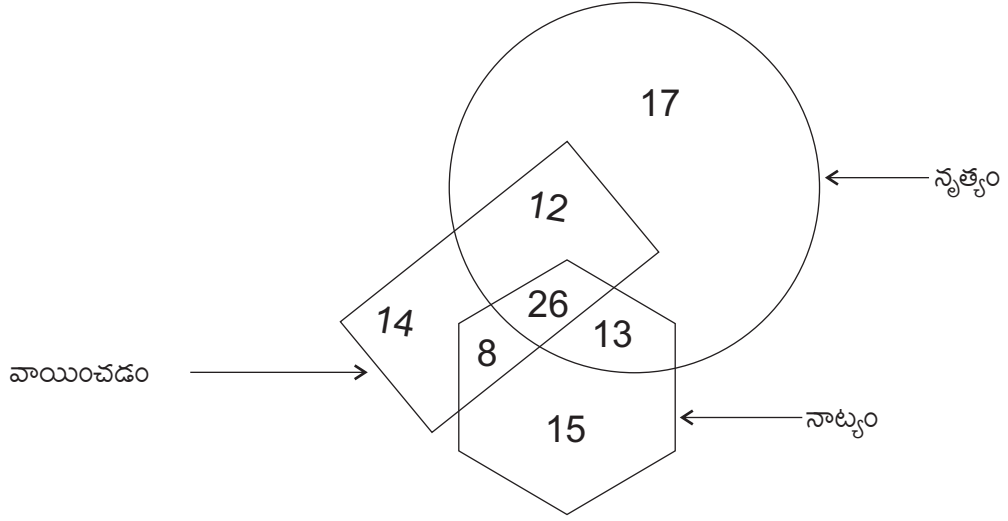
(2)

(3)

(4)

SPACE FOR ROUGH WORK

58.



పక్కనున్న పటంలో ఒక పాఠశాలలోని నృత్యం, నాట్యం మరియు వాయిచడం ఈ క్షేత్రంలో ఇష్టం గల వారి సంఖ్యను చూపబడింది. దీని నుండి రెండు క్షేత్రంలో మాత్రమే ఇష్టం గల వారి సంఖ్య ఎంత?

- | | |
|--------|--------|
| (1) 59 | (2) 33 |
| (3) 46 | (4) 20 |

59. తుఫాను, సునామి, వరద

- | | |
|-----------|----------------|
| (1) వర్షం | (2) ప్రమాదం |
| (3) కరువు | (4) మహాసముద్రం |

60. అవని, ధరణి, పుడమి

- | | |
|------------|-------------|
| (1) గోధుమ | (2) కందగడ్డ |
| (3) చెరుకు | (4) భూమి |

61. 9 (31) 5 , 7 (17) 4 , 8 (13) 3

- | | |
|--------------|--------------|
| (1) 8 (26) 5 | (2) 7 (23) 5 |
| (3) 7 (17) 3 | (4) 6 (20) 2 |

SPACE FOR ROUGH WORK

A	B	C	D	E	F	G	H	I	J	K	L	M	N	O	P	Q	R	S	T	U	V	W	X	Y
---	---	---	---	---	---	---	---	---	---	---	---	---	---	---	---	---	---	---	---	---	---	---	---	---

62. $\frac{18}{42}, \frac{27}{63}, \frac{36}{84}$


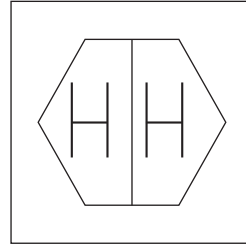
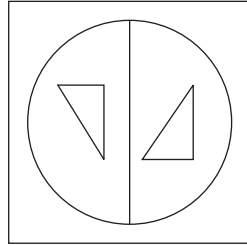
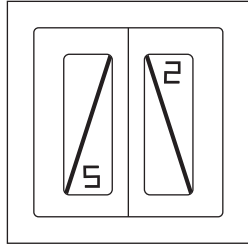
(1) $\frac{24}{72}$

(2) $\frac{51}{119}$

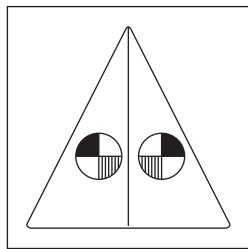
(3) $\frac{30}{60}$

(4) $\frac{72}{120}$

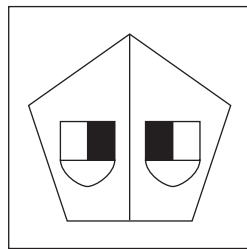
63. Question Figures:



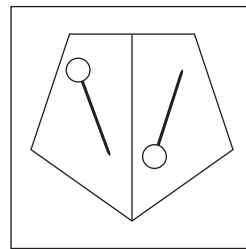
Answer Figures:



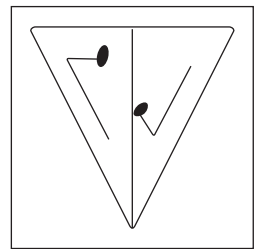
(1)



(2)



(3)



(4)

64. In a certain code language if $[3, 4] \left[\frac{2}{5} \right] = 26$, $[1, 3] \left[\frac{2}{7} \right] = 23$ and $[2, 5] \left[\frac{6}{7} \right] = 47$ then in the same code language how will you write $[2, 7] \left[\frac{5}{6} \right]$?

(1) 52

(2) 20

(3) 42

(4) 62

65. Statement A : Sourabh is 17 years old and he is three years younger than Seema.
Statement B : Sharayu is younger than Sharad, her age is 21 years.

Select the correct conclusion of statement A and B from the given alternatives.

(1) Sharayu is younger than Sourabh by 4 years.

(2) Sharad is younger than Seema.

(3) Seema is 14 years old.

(4) Sourabh is youngest in all of them.

SPACE FOR ROUGH WORK

A	B	C	D	E	F	G	H	I	J	K	L	M	N	O	P	Q	R	S	T	U	V	W	X	Y
---	---	---	---	---	---	---	---	---	---	---	---	---	---	---	---	---	---	---	---	---	---	---	---	---

62. $\frac{18}{42}, \frac{27}{63}, \frac{36}{84}$


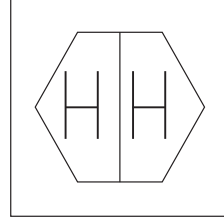
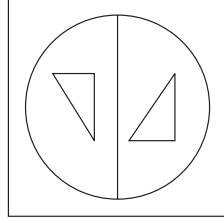
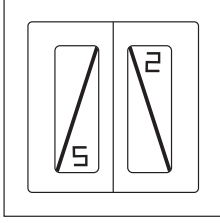
(1) $\frac{24}{72}$

(2) $\frac{51}{119}$

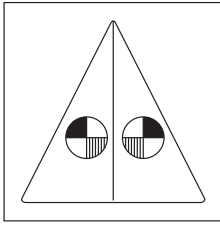
(3) $\frac{30}{60}$

(4) $\frac{72}{120}$

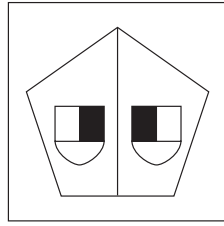
63. సమస్యాత్మక చిత్రంలు :



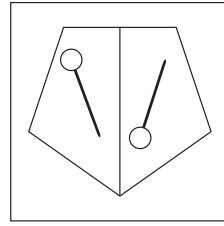
సమాధానాల చిత్రంలు :



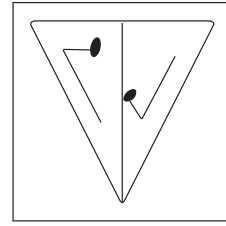
(1)



(2)



(3)



(4)

64. ఒక సంకేత (కోడ్) భాషలో $[3, 4] \left[\frac{2}{5} \right] = 26$, $[1, 3] \left[\frac{2}{7} \right] = 23$ మరియు $[2, 5] \left[\frac{6}{7} \right] = 47$ ఇలా రాస్తారు. అయిన అదే సంకేత (కోడ్) భాషలో $[2, 7] \left[\frac{5}{6} \right]$ ను ఎలా రాస్తారు?

(1) 52

(2) 20

(3) 42

(4) 62

65. వివరణ : A) సారభ్ వయసు 17 సంవత్సరములు కాని సీమా కంటే 3 సంవత్సరాలు చిన్నవాడు.

B) శరయు వయసు 21 సంవత్సరములు కాని శరద్ కంటే చిన్నది.

దీని నుండి సరియైన దానిని గుర్తించండి.

(1) శరయు సారభ్ కంటే 4 సంవత్సరాలు చిన్నది.

(2) శరద్ సీమా కంటే చిన్నవాడు.

(3) సీమా వయసు 14 సంవత్సరాలు గలదు.

(4) సారభ్ వయసులో అందరి కంటే చిన్నవాడు.

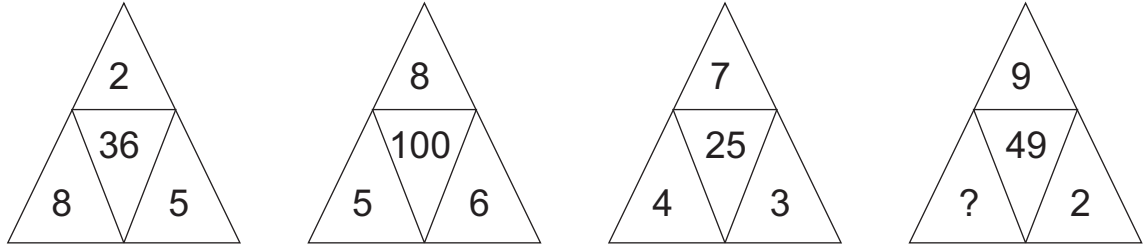
SPACE FOR ROUGH WORK

A	B	C	D	E	F	G	H	I	J	K	L	M	N	O	P	Q	R	S	T	U	V	W	X	Y
---	---	---	---	---	---	---	---	---	---	---	---	---	---	---	---	---	---	---	---	---	---	---	---	---

66. In a certain code language if COW = 274, CAT = 684 and WET = 825 then in the same code language how will you write GOAT? [The order of letters and numbers may not be one to one.]

- (1) 4768 (2) 7186 (3) 8765 (4) 1785

67. In the following question select the correct alternative to replace the question mark.



- (1) 5 (2) 4 (3) 3 (4) 1

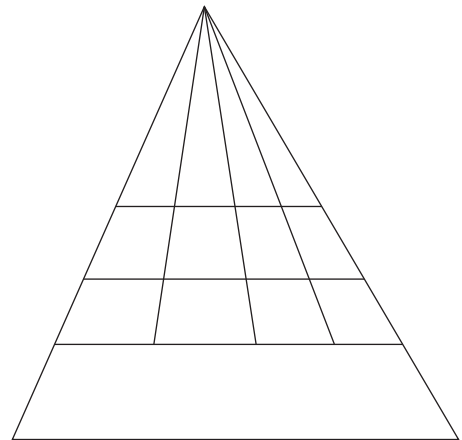
68. Observe the table of alphabets and signs and find the word opposite to 'Good'.

A	B	C	D	E	F	G
Δ	□	⊗	+	●		\

- (1) □ Δ + (2) ⊗ Δ +
(3) ● □ + (4) □ ● ⊗

69. How many quadrilaterals are there in the given figure.

- (1) 60
(2) 30
(3) 33
(4) 32



SPACE FOR ROUGH WORK

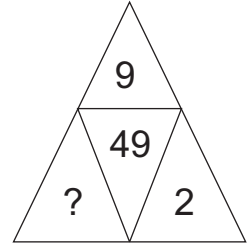
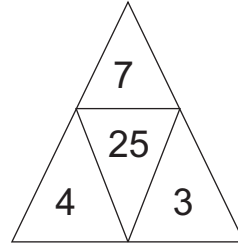
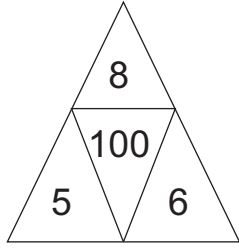
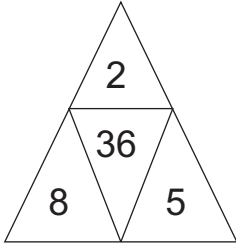
A	B	C	D	E	F	G	H	I	J	K	L	M	N	O	P	Q	R	S	T	U	V	W	X	Y
---	---	---	---	---	---	---	---	---	---	---	---	---	---	---	---	---	---	---	---	---	---	---	---	---

66. ఒక సంకేత (కోడ్) భాషలో COW = 274, CAT = 684 మరియు WET = 825 ఇలా రాస్తారు. అయిన అదే సంకేత (కోడ్) భాషలో GOAT పదంను ఎలా రాస్తారు.

(సూచన: అక్షరాలు మరియు అంకెల వరుస ఒకే విధంగా ఉంటుందని చెప్పలేము)

- (1) 4768 (2) 7186
(3) 8765 (4) 1785

67. కింది ప్రశ్నలో ప్రశ్న గుర్తు స్థానంలో ఏ సంఖ్య వచ్చును?



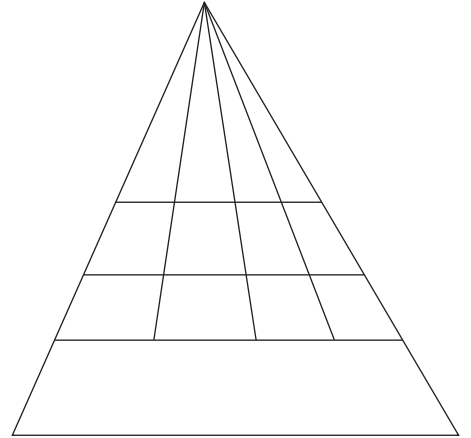
- (1) 5 (2) 4
(3) 3 (4) 1

68. 'మేలు' పదానికి సరియైన అర్థం కింది వాటిలో ఏది?

- (1) మంచి (2) స్వార్థము
(3) ఆశ (4) చెడు

69. ప్రక్కనున్న ఆకృతిలో మొత్తం ఎన్ని చతుర్భుజాలు గలవు?

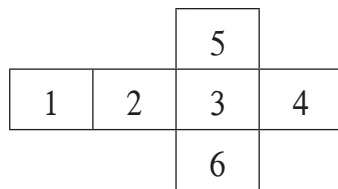
- (1) 60
(2) 30
(3) 33
(4) 32



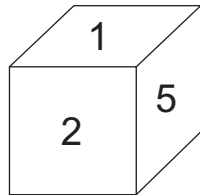
SPACE FOR ROUGH WORK

A	B	C	D	E	F	G	H	I	J	K	L	M	N	O	P	Q	R	S	T	U	V	W	X	Y
---	---	---	---	---	---	---	---	---	---	---	---	---	---	---	---	---	---	---	---	---	---	---	---	---

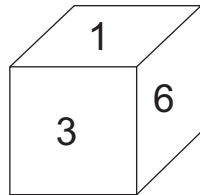
70.



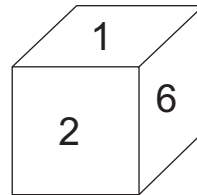
Observe the given figure. When figure is folded on lines then which of the following cube is not formed?



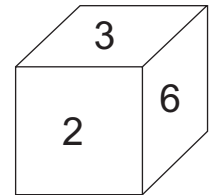
(1)



(2)



(3)



(4)

71. In the given series, select the correct alternative to replace the question mark.



72. Identify the pattern of numbers in the series and select the wrong term.

3 , 1 , 6 , 7 , 10 , 26 , 15 , 63 , 21

(1) 1

(2) 7

(3) 15

(4) 21

73. Varsha was facing the setting sun, she turned at 135° twice to her right side and went straight in her house then in which direction is the door facing?

(1) South

(2) South-East

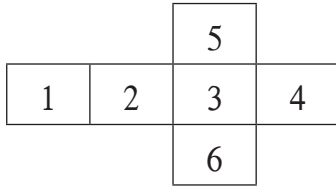
(3) North

(4) North-East

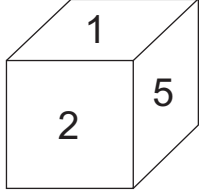
SPACE FOR ROUGH WORK

A	B	C	D	E	F	G	H	I	J	K	L	M	N	O	P	Q	R	S	T	U	V	W	X	Y
---	---	---	---	---	---	---	---	---	---	---	---	---	---	---	---	---	---	---	---	---	---	---	---	---

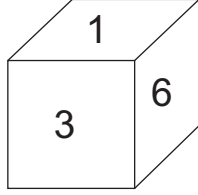
70.



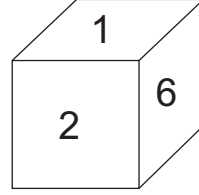
ప్రక్కనున్న ఆకృతిని గతల మీదుగా మడిచి ఘనంను తయారు చేసినచో, కింది వాటిలో ఏ ఘనాకరం ఏర్పడదు?



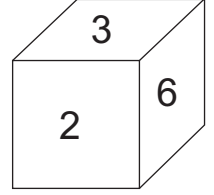
(1)



(2)



(3)



(4)

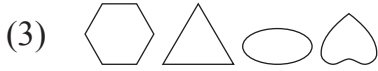
71. కింద ఇచ్చిన చిహ్నాల శ్రేణిలో, ప్రశ్నచిహ్న స్థానంలో వచ్చే చిహ్నాల సమూహాను ఎంపిక చేయండి.



(1)



(2)



(3)



(4)

72. కింద ఇచ్చిన సంఖ్యాశ్రేణిలోని సంఖ్యలు నిర్దిష్టమైన వరుసలో అమర్చబడినవి. ఆ వరుసను గుర్తుంచుకొని దానిలోని సరికాని పదంను ఎన్నుకోండి.

3 , 1 , 6 , 7 , 10 , 26 , 15 , 63 , 21

(1) 1

(2) 7

(3) 15

(4) 21

73. అస్తమిస్తున్న సూర్యుడిని నమస్కరిస్తున్న వర్షా 135°లు రెండు సార్లు కుడివైపు తిరిగి నేరుగా ఇంటిలోకి ప్రవేశించింది. అయిన ఇంటి ప్రవేశ ద్వారం ఏ దిశ వైపు ఉండును?

(1) దక్షిణం

(2) ఆగ్నేయం

(3) ఉత్తరం


(4) ఈశాన్యం

SPACE FOR ROUGH WORK


Q. 74 and Q. 75 Direction:

In each question a problem figure is held vertical above water surface. Identify its water reflection and select the correct alternative.


74. Question Figure:




Answer Figures:



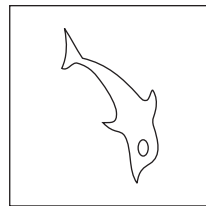
(1)



(2)



(3)




(4)

75. Question Figure:



Answer Figures:



(1)



(2)



(3)



(4)



SPACE FOR ROUGH WORK

ప్రశ్న 74 మరియు 75 వరకు సూచన :


కింద ఇచ్చిన సమస్యాత్మక చిత్రం యొక్క ప్రతిబింబం నీటిలో ఎలా కనబడుతుందో దాని ప్రత్యమ్నాయంను సమాధాన చిత్రంల నుంచి ఎంపిక చేయండి.

74. సమస్యాత్మక చిత్రం :

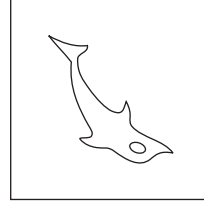
సమాధాన చిత్రంలు :



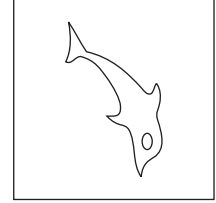
(1)



(2)



(3)



(4)

75. సమస్యాత్మక చిత్రం :

సమాధాన చిత్రంలు :



(1)



(2)



(3)



(4)

SPACE FOR ROUGH WORK

SPACE FOR ROUGH WORK